

DEZENAS E UNIDADES


1 - FAÇA UM X PARA APAGAR CADA VELHINHA.
APAGUE 10 VELINHAS,



4 VEJA OS PINOS DE BOLICHE.
OS PINOS DERRUBADOS
REPRESENTAM MAS OU MENOS
QUE UMA DEZENA?




5 VAMOS PARA A FESTA JUNINA! PINTE:
A) UMA DEZENA DE BANDEIRINHAS DE ROSA.
B) MENOS DE UMA DEZENA DE VERDE
C) MAIS DE UMA DEZENA DE AMARELO



VOCÊ PINTOU _____ BANDEIRINHAS DE ROSA, _____ BANDEIRINHAS DE VERDE
E _____ BANDEIRINHAS DE AMARELO.

VAMOS CONTAR OS PREGADORES EM GRUPOS DE 10



1 GRUPO DE 10 OU 1 DEZENA OU 10 UNIDADES

DEZENAS	UNIDADES
D	U
1	0

DEZ



2 GRUPO DE 10 OU 2 DEZENA OU 20 UNIDADES

D	U
2	0

VINTE




3 GRUPO DE 10 OU 3 DEZENA OU 30 UNIDADES

D	U
3	0

TRINTA

CONTINUE CONTANDO OS GRUPOS DE 10 PREGADORES E COMPLETE



_____ GRUPOS DE 10 OU _____ DEZENAS OU _____ UNIDADES

D	U


QUARENTA



_____ GRUPOS DE 10 OU _____ DEZENAS OU _____ UNIDADES

D	U


CINQUENTA



_____ GRUPOS DE 10 OU _____ DEZENAS OU _____ UNIDADES

D	U


SESENTA



D	U

SETENTA


_____ GRUPOS DE 10 OU _____ DEZENAS OU _____ UNIDADES



D	U

OITENTA

_____ GRUPOS DE 10 OU _____ DEZENAS OU _____ UNIDADES



D	U

NOVENTA

_____ GRUPOS DE 10 OU _____ DEZENAS OU _____ UNIDADES

CONTINUE A CIRCULAR 10 ESTRELINHAS PARA FORMAR DEZENAS



Fotos: PhotoDisc

A) QUANTAS ESTRELAS VOCÊ CIRCULOU? _____

B) QUANTAS DEZENAS DE ESTRELAS HÁ NO TOTAL? _____

EM CADA CAIXA HÁ 10 DOCES.
 QUANTAS DEZENAS DE DOCES HA NO TOTAL

QUANTAS UNIDADES _____



CONTINUE A DESENHAR A PINTAR ATÉ FORMAR

A) DUAS DEZENAS DE 



B) TRÊS DEZENAS DE 



EM CADA  HÁ 1 DEZENA DE CANETINHAS OU 10 CANETINHAS
 EM CADA ITEM TEM?



_____ DEZENAS DE CANETINHAS
 OU _____ CANETINHAS




_____ DEZENAS DE CANETINHAS
 OU _____ CANETINHAS



_____ DEZENAS DE CANETINHAS
 OU _____ CANETINHAS



_____ DEZENAS DE CANETINHAS
 OU _____ CANETINHAS


EM CADA  HÁ 1 DEZENA DE BALAS OU 10 BALAS
EM CADA SAQUINHO



_____ DEZENAS DE BALAS
OU _____ BALAS



_____ DEZENAS DE BALAS
OU _____ BALAS

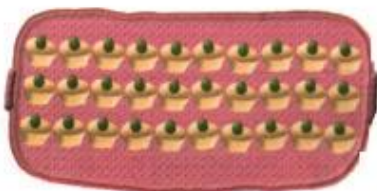


_____ DEZENAS DE BALAS
OU _____ BALAS




_____ DEZENAS DE BALAS
OU _____ BALAS

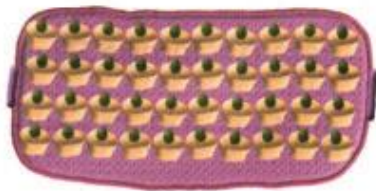
EM CADA FILEIRA HÁ 10 EMPADINHAS.
QUANTAS DEZENAS DE EMPADINHAS HÁ EM CADA BANDEJA? QUANTAS UNIDADES DE EMPADAS?



_____ DEZENAS OU
_____ EMPADINHAS



_____ DEZENAS OU
_____ EMPADINHAS




_____ DEZENAS OU
_____ EMPADINHAS

NAS TRÊS BANDEJAS HÁ _____ DEZENAS DE EMPADINHAS OU _____ EMPADINHAS

QUANTOS GRUPOS DE 10



_____ GRUPOS DE 10 CLIPES = _____ CLIPS



_____ GRUPOS DE 10 SELOS = _____ SELOS

10 GRUPOS DE 10 = 10 DEZENAS = 100 UNIDADES
100 LÊ-SE **CEM**

ESCOLHA O QUE VOCÊ ACHA CORRETO E COMPLETE AS SENTENÇAS.
ESTA É A FAMÍLIA SILVA.

A) (4 OU 40) O PAI TEM _____ ANOS

B) (5 OU 50) O BEBÊ TOMA _____
MAMADEIRAS

C) (6 OU 60) A AVÓ VAI COMPLETAR
_____ ANOS



VEJA OS PREGADORES NO VARAL



DESENHE ESSES MESMOS PREGADORES FORMANDO GRUPO DE 10

A) QUANTOS GRUPOS DE 10 PREGADORES VOCÊ FORMOU? _____

B) QUANTAS DEZENAS DE PREGADORES? _____

C) QUANTOS PREGADORES NO TOTAL _____

OUTROS NÚMEROS



VEJA COMO VAMOS CONTAR

 10 UNIDADES	OU	 1 DEZENA	<table border="1"><tr><td>DEZENA</td><td>UNIDADE</td></tr><tr><td>D</td><td>U</td></tr><tr><td>1</td><td>0</td></tr></table> DEZ	DEZENA	UNIDADE	D	U	1	0
DEZENA	UNIDADE								
D	U								
1	0								
 1 DEZENA	E	 2 UNIDADES	<table border="1"><tr><td>D</td><td>U</td></tr><tr><td>1</td><td>2</td></tr></table> DOZE	D	U	1	2		
D	U								
1	2								

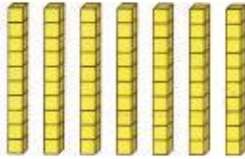

CONTINUE CONTANDO

a)



 _____ DEZENAS	 _____ UNIDADES	<table border="1"><tr><td>D</td><td>U</td></tr><tr><td> </td><td> </td></tr></table> _____	D	U		
D	U					

b)  _____ DEZENAS E  _____ UNIDADES

D	U

c)  _____ DEZENAS E  _____ UNIDADES

D	U


d)  _____ DEZENAS E  _____ UNIDADES


D	U

EM CADA  HÁ 10 MASSINHAS
 QUANTAS MASSINHAS HÁ EM CADA ITEM?

a)  TOTAL: _____

c)  TOTAL: _____

b)  TOTAL: _____

d)  TOTAL: _____